

< 範圍：L3-L4 >

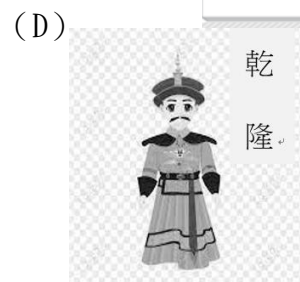

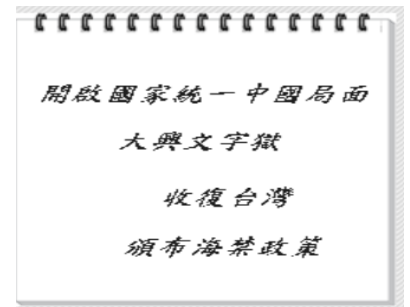
【劃卡代號：51】

班級： 座號： 姓名：

※答案卡限用 2B 鉛筆劃記，答案請劃記明確；若有劃記錯誤，請擦拭乾淨。分數以電腦讀卡分數為準。

一、選擇題：22 題（共 66 分：每題 3 分）

- ( ) 1. 所謂「朝貢貿易」是指四周藩屬鄰邦對中國天朝的進貢，鄰邦必須接受中國的冊封，才能藉著朝貢的名義與中國進行有限制的貿易活動。如果不肯接受中國的冊封，就不能進行貿易，足見政治考量遠大於經濟利益。請問：下列哪一事件可以說是朝貢貿易的例證？  
 (A) 鄭和出使西洋，宣揚國威，造成東南亞國家臣服 (B) 宋真宗生活親征遼國，簽訂澶淵之盟，以歲幣換取北方國防安全 (C) 張騫出使西域，開通絲路，展開與羅馬帝國通商 (D) 玄奘前往印度，求取大量佛經回中國，政府與印度建立邦交往來
- ( ) 2. 宋江是一位中國元朝時期，居住在大都（今北京）的商人。下列哪個選項可能是他在生活中會遇到的狀況？  
 (A) 受政府禁令影響，人民無法私自進行海上的貿易活動 (B) 統治者對宗教實施嚴格管控，穆斯林無法前來中國傳教貿易 (C) 政府多任用南方漢人，來擔任財務及經濟管理的工作 (D) 宋江與中亞、西亞地區均是受相同民族統治，路上貿易順暢。
- ( ) 3. 清朝皇子在上書房學習，老師黎明開始授課，某日老師對皇子講述某一朝代的衰亡，並歸納出右圖的原因。請問：老師所敘述的應是哪一朝代？  
 (A) 北宋 (B) 南宋 (C) 元朝 (D) 明朝
- ( ) 4. 新加坡重要的觀光地點「牛車水」，是當地非常知名的「中國城」。其實，在東南亞許多地方，例如：檳城、吉隆坡城市也有類似的華人群聚社區。這些「中國城」會出現，主因是華人不斷不斷移民至東南亞，試問：最早造成華人移民至東南亞事件為何？  
 (A) 大航海時代 (B) 鄭和下西洋 (C) 明清海禁政策 (D) 張遷出使西域。
- ( ) 5. 史學家評析中國某一朝代海外貿易發展如下：「朝廷先以海禁政策約束民間海外貿易，但難杜絕走私；後來海禁解除，西方商人大批採買中國商品，導致大量白銀流入，逐漸成為中國國際貿易市場主要貨幣。」上述所評析的最可能是哪一朝代的情況？  
 (A) 唐代 (B) 宋代 (C) 元朝 (D) 明朝
- ( ) 6. 小道至中國北京參觀著名的佛寺「萬壽寺」，看到其中一內殿名為大延壽殿，其月台前東西兩側立石碑，石碑上刻著滿文、漢文、蒙文、藏文。這顯示出此建築物興建的朝代是由多民族所組成，國家版圖涵蓋中原、西藏、蒙古以及東北。請問：上文敘述興建「萬壽寺」的朝代最有可能為下列何者？  
 (A) 宋朝 (B) 元朝 (C) 明朝 (D) 清朝
- ( ) 7. 歷史老師上課時，分組舉行「歷史人物對對碰」競賽，學生必須回答與牌卡相對應的人物才能過關。史瓦帝尼組抽到的牌卡如右圖，請問史瓦帝尼組應該選擇下列哪張圖卡才闖關成功？



- ( ) 8. 小九從書中摘錄出中國史上三個朝代的對外關係，請根據內文判斷，將其依時間先後順序排列，下列何者正確？

朝代甲：皇帝派軍擊滅東突厥後，國勢聲威遠播，西域各族遣使入貢。再者，文化內涵影響四鄰，形成東亞文化圈。

朝代乙：朝廷初期面對外敵時，選擇遷都北京、修築長城，抵禦強敵。但面對其他中國以南的國家，採取高姿態政治態度處理與他國關係。

朝代丙：朝廷面對契丹外族進逼，選擇透過金錢外交維持和平。但面對其他強權興起時，又必須重新調整與各國之間的關係。

- (A) 甲→乙→丙 (B) 乙→丙→甲 (C) 甲→丙→乙 (D) 丙→甲→乙。

( ) 9. 車銀優參加一場弘道國中舉辦的歷史研討會，右圖是研討會其中一主題大綱。

由圖中內容判斷，此主題應為下列何者？

- (A) 評析大清帝國的政治 (B) 漫遊大漢帝國的命運  
(C) 話說兩宋的多元民族 (D) 細論大明帝國的興衰



( ) 10. 明末清初西方宗教傳入亞洲，「某人」離開他的家鄉義大利，至中國傳播天主教，允許中國教徒可以祭拜祖先與孔子，方便他在中國傳教。「某人」應為下列何者？

- (A) 馬偕 (B) 馬雅各 (C) 利瑪竇 (D) 徐光啟

( ) 11. 右圖是某一朝代歷史電玩遊戲—「群英爭霸」的畫面。玩家可以選擇其中一個國家來進行遊戲。丁丁選擇「甲」作為自己的角色。請問：根據遊戲中呈現的形勢來判斷，丁丁的角色應是下列何者？

- (A) 南宋 (B) 北宋 (C) 元朝 (D) 明朝



( ) 12. 《吃一場有趣的宋朝飯局》一書的作者該書一開始就建議讀者，想穿越的人最好穿越

到宋代，不但食物比較好吃，娛樂也比以前多很多。請問：下列何者可能是該書描寫的內容？

- (A) 所有店家的筵席活動，都可以歡鬧直到深夜 (B) 沿街攤販有販售烤蕃薯給旅客帶在路上充飢  
(C) 吃完餐點後，可以使用紙幣和白銀付費給店家 (D) 在夜市看到店小二大聲叫賣香噴噴的烤玉米。

( ) 13. 忽而必是生活在元代的男孩，父親帶著全家從西域移民到大都，在朝廷擔任財稅部門的要員。他父親常告訴他只要好好準備，將來科舉上榜、出任當官都有保障名額。然而，忽而必個性不定，逞兇鬥狠，常常仗著自己的特殊地位，在街頭打傷人，仍享有減刑的優勢。請問：忽而必是哪一等級的人？

- (A) 蒙古人 (B) 色目人 (C) 漢人 (D) 南人

( ) 14 李脘想編一部關於元朝時期的劇本，劇本如下：

甲：住家隔壁就是商店街，有許多酒樓、飯館。 乙：驛站裡人聲鼎沸，來往旅人絡繹不絕。  
丙：回回醫人在大都開設醫館，求診者眾。 丁：排斥漢人學術文化，永久停辦科舉。

若要符合歷史背景，那麼劇中適合出現下列哪些現象？

- (A) 甲乙丙 (B) 乙丙丁 (C) 甲丙丁 (D) 甲乙丁

( ) 15. 普拿疼為了解某一歷史事件的影響，研究當時的路線圖（如附圖）。

請問：她研究的主題為何？

- (A) 大航海時代  
(B) 張騫出使西域  
(C) 玄奘西行取經  
(D) 鄭和出使西洋



( ) 16. 清帝國以少數民族入主中原，一方面開科取士，籠絡人心。另一方面則屠殺反清勢力，消弭任何對清政權不利的因素，因此清初曾締造長達一百多年的盛世。請問：上述的盛世長達國祚的二分之一，文治武功都可媲美漢唐，主要得力於下列哪一因素？

- (A) 強大的戰爭實力 (B) 尊崇漢人宗教信仰 (C) 實施多元統治的政策 (D) 廣設驛站擴大經濟水準。

( ) 17. 「這個皇帝出自政治考量而作成一項決策，他禁止耶穌會士來華傳教，中西交流在十八世紀前期中斷，然此後一百年是歐洲快速發展的時期，中國因此失去了學習的機會。」這是在描述哪個皇帝的作為及其影響？

- (A) 康熙 (B) 雍正 (C) 乾隆 (D) 嘉慶

( ) 18. 下列何者是明末傳教士利瑪竇與徐光啟之間可能有的對話？

- (A) 利瑪竇：「過幾天我們就可以翻譯完《幾何原本》」 (B) 徐光啟：「皇上派遣鄭和前進西洋，我想這會是個偉大成就」  
(C) 利瑪竇：「當今皇帝命傳教士繪製經緯度的中國地圖」 (D) 徐光啟：「我將捐助數千張的大元寶鈔供教會之用。」

( ) 19. 有學者指出：「歐洲最早發行紙幣的國家是瑞典，於西元 1661 年開始發行紙幣；就時間上而言，較中國晚了 600 餘年。」請問：學者所謂中國發行紙幣的時代，其生活情境與下列何者敘述相符合？

- (A) 各國往來頻繁，首先設立市舶司 (B) 美洲白銀流入，銀兩繳納賦稅  
(C) 商人形成商幫，壟斷國內市場 (D) 城市商業繁榮，夜市通宵達旦

( ) 20. 右方兩圖分別為官方頒發的牌符及當時可通行使用的路線。根據內容判斷這兩幅圖最適合用來說明下列何者？

- (A) 兩漢時期的對外征伐 (B) 大唐帝國的統治區域  
(C) 蒙古帝國的勢力範圍 (D) 盛清時期的開疆闢土



( ) 21. 某影視公司的古裝劇劇組為了拍攝宋代泉州港的鏡頭需要布置攝影場地。請問：作為該劇組的歷史顧問，你應該提議呈現下列哪些情境才符合歷史事實？

甲、此處設有市舶司管理商務；乙、交易媒介只能使用本地銅錢；  
丙、商人多穿著舒適的棉布； 丁、商人上岸後可品嚐香噴噴的占城米

- (A) 甲乙丙 (B) 乙丙丁 (C) 甲乙丁 (D) 甲丙丁

( ) 22. 相對於唐朝盛世時獨強於東亞，宋朝截然不同。宋朝在與他國訂立澶淵之盟後，中國的國際地位有很大的變化。請問：關於澶淵之盟的訂立，下列敘述何者正確？

- (A) 宋朝的訂約對象為女真族 (B) 訂約後中國與他國建立平等關係 (C) 訂約雙方以叔姪互稱 (D) 訂約後宋朝隨即滅亡。

二、題組：共 11 題（共 34 分：23 至 32 題，每題 3 分；第 33 題 4 分）

(一) 請依據短文回答第 23 至 24 題：

一千多年前，一個游牧部落在中國東北方建國，是為「甲國」。「甲國」人完顏辛打算過了這個冬季，到南方的邊境取得「乙國」的稻米、棉布、瓷器等用品。

後來，「甲國」發動戰爭，完顏辛也從軍征戰。在這場戰爭中，他目睹族人攻陷「乙國」的首都，並擄走了「乙國」的皇帝。完顏辛原想此後能到南方享用當地的物產，但因局勢演變，終究未能如願。

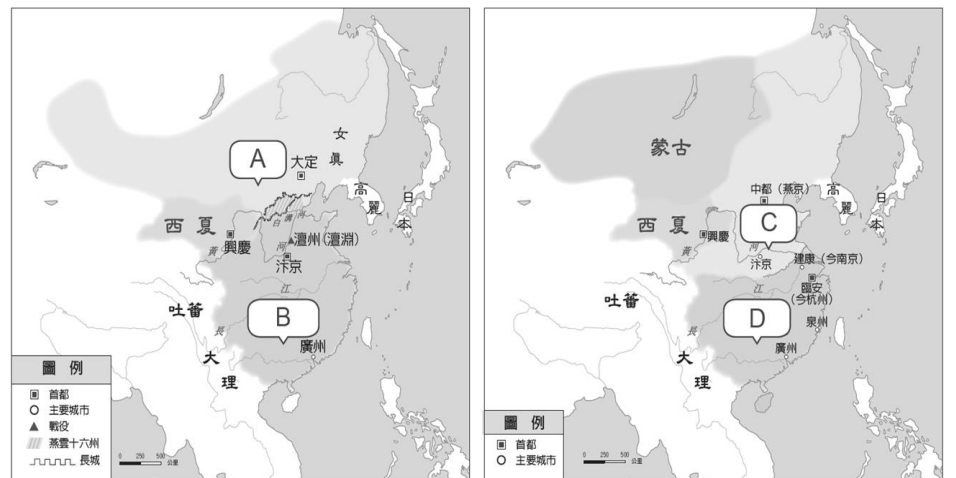
（參考資料：林俊雄，草原王權的誕生：斯基泰與匈奴，早期游牧國家的文明。

( ) 23. 文中出現的「甲國」與「乙國」，分別指右圖地圖中的哪些國家？

- (A) C、A (B) D、A (C) C、B (D) D、B

( ) 24. 為什麼完顏辛想到南方享用當地物產的心願不能如願？

- (A) 因南方政府迅速瓦解 (B) 因契丹人進攻南方  
(C) 因南方經濟市場崩潰 (D) 因南北對峙局勢形成



(二) 16 世紀西班牙商人尼古拉斯深信「誰擁有海洋，誰就擁有全世界」，於是籌措資金，準備前往亞洲採購絲織品、瓷器等商品，再將這些商品賣往歐洲賺取下一趟航行的經費。請依據上文及右圖回答第 25 至 27 題：

( ) 25. 西班牙商人尼古拉斯想購買中國的商品，但不能直接進入中國的港口購買。請問：這是受到下列哪項政策的影響？

- (A) 禁教政策 (B) 劃界封山  
(C) 鎖國政策 (D) 海禁政策

( ) 26. 不能進入中國港口貿易的尼古拉斯應該選擇下列哪個港口停靠與貿易？請選擇正確的搭配。

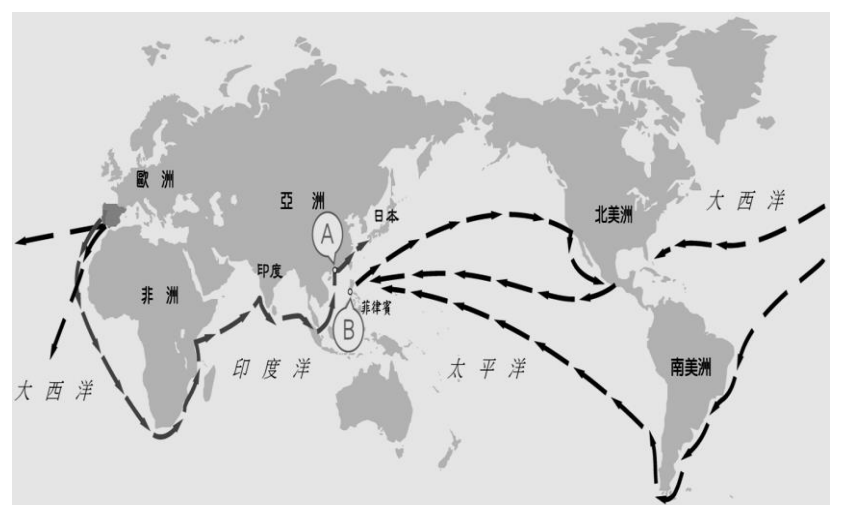
- (A) A：澳門 (B) B：馬尼拉  
(C) A：香港 (D) B：雅加達

( ) 27. 在大航海時代，尼古拉斯等歐洲商人攜帶不同的商品來往

於美洲與亞洲之間。請問：下列商品中，哪些是歐洲商人從美洲帶來的？

甲、玉米；乙、白銀；丙、茶葉；丁、番薯；戊、馬鈴薯

- (A) 甲乙丙丁 (B) 甲乙丙戊 (C) 甲乙丁戊 (D) 乙丙丁戊



(三) 古蹟與古物藉由不同朝代或團體的珍藏與傳播，可以讓後人欣賞外，更可以讓子孫藉由這些文物的保存，了解當時的文化特色、人民生活情境。請問：

( ) 28. 欲了解宋朝市井小民日常生活寫照，可以參閱下列哪一文物？

(A)

景德鎮瓷器



(B)

清明上河圖



(C)

兵馬俑



(D)

元朝寶鈔



( ) 29. 「中國風」在藝術史上指的是 17、18 世紀時風行全歐洲的國際時尚。喝茶要用青花瓷的杯子，壁紙要用大紅色的才顯得有東洋風情。請問：除了商人源源不絕地將東洋風的物品銷售到歐洲之外，哪些人對於掀起中國風熱潮也有著莫大貢獻？

(A) 教會派出的傳教士 (B) 上戰場的士兵 (C) 出使中國的外交官 (D) 與外國貿易往來的商幫

(四) 依據下方的地圖，回答第 30 至 33 題：



圖 (一)

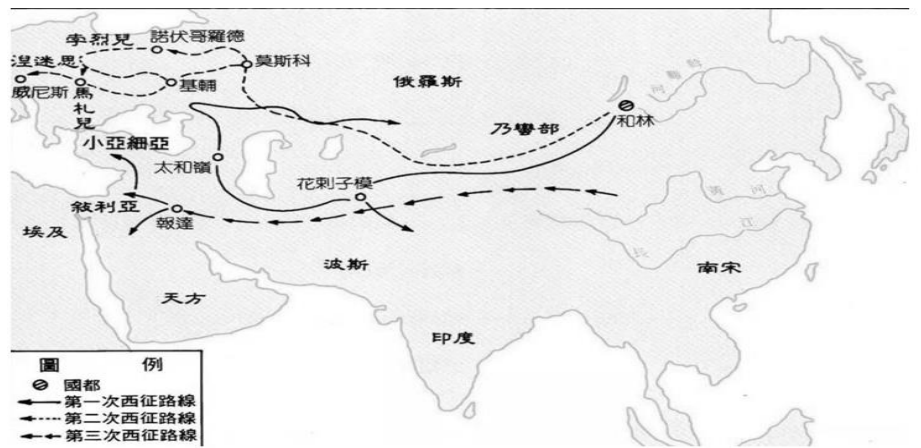


圖 (二)



圖 (三)

( ) 30. 根據圖 (二) 所展開的歷史特色，中國的哪些發明西傳，促成歐洲文明的發展，提供異乎尋常的推動力？

(A) 造紙術、指南針 (B) 火藥、造紙術 (C) 造紙術、印刷術 (D) 火藥、印刷術

( ) 31. 根據圖 (一) 所展開的歷史特色，下列何者正確？

(A) 對中國稱臣納貢國家數量大減 (B) 中國沿海居民紛紛移至東南亞發展  
(C) 明朝與歐洲國家建立外交關係 (D) 倭寇與海商遭到打擊，一蹶不振

( ) 32. 根據圖 (三) 所展開的歷史特色，下列哪一史實正確？

(A) 歐洲採取高壓政策和亞洲貿易往來 (B) 歐亞非三洲廣設驛站，進行國際貿易交流  
(C) 白銀加速全球貿易網絡的形成 (D) 十八世紀末，日本允許西班牙至長崎貿易

( ) 33. 依照圖 (一)、圖 (二)、圖 (三) 的判讀，以下哪一個標題最合乎史實？

(A) 不同民族在不同時空歷史發展下，展開東西方交流 (B) 都是戰爭惹得禍！東西方民族均受中國迫害  
(C) 各國統治者為滿足國家版圖的擴張，展開對外侵略 (D) 人民對財富的追求！迫使政府開通交通路線